

Уважаемый участник олимпиады! Вашему вниманию предлагаются задания тестового и теоретического туров, на выполнение которых отводится 135 минут (на тестовый тур – 45 минут и теоретический – 90 минут).

Тестовое задание включает 30 вопросов, каждый из которых содержит несколько элементов ответов и оценивается определенным количеством баллов (от 0,5 до 1,5 баллов). Общая оценка ответов на вопросы тестового тура представляет собой сумму баллов за отдельный вопрос и максимально составляет 30 баллов.

Теоретический тур включает задания различной степени сложности. Каждый элемент заданий оценивается определенным количеством баллов (от 1 до 8 баллов). Общее количество заданий составляет 5, максимальное количество баллов за правильные ответы – 70 баллов.

При ответах на вопросы тестового тура и заданий теоретического тура запрещается пользоваться географическими картами, атласами, словарями и справочными материалами.

Тестовый тур

1 Португальский мореплаватель Васко да Гама впервые пересек ... океан и достиг берегов Индостана

- а) Индийский
- б) Тихий
- в) Атлантический
- г) Северный Ледовитый

2. В какой из перечисленных ниже стран есть места, где 22 декабря в полдень солнце находится в зените и предметы не отбрасывают тень?

- а) Намибия
- б) Перу
- в) Италия
- г) Шри Ланка

3. Какое количество меридианов можно провести на земной поверхности?

- а) 90
- б) 180
- в) 360
- г) неограниченное количество

4. Морская миля равна 1852 м. Исторически эта единица измерения связана с размером Земли и соответствует

- а) четырем секундам широты
- б) одной минуте широты
- в) одному градусу широты
- г) трем секундам широты

5. Какая из перечисленных горных пород является метаморфической по происхождению?

1

- а) сиенит
- б) песок
- в) нефть
- г) гнейс

6. Какие из тектонических структур Земли являются наиболее древними?

1,5

- а) Сибирская платформа
- б) Северо-Американская платформа
- в) Скифская плита
- г) Южно-Китайская платформа

7. Для каких гор характерны мощные землетрясения?

0,5

- а) Уральских
- б) Карпат
- в) Анд
- г) Альп

8. Выберите горные системы, расположенные на территории Европы.

1

- а) Срединный хребет
- б) Пиренеи
- в) Верхоянский хребет
- г) Альпы

9. В результате какого фактора происходит образование бараньих лбов?

1

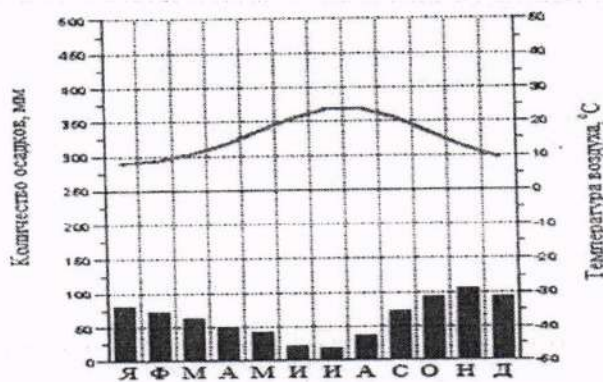
- а) ледника
- б) ветра
- в) многолетней мерзлоты
- г) постоянных водотоков

10. Как называется прибор для определения превышений на местности?

0

- а) гигрометр
- б) барометр
- в) бусоль
- г) нивелир

11. Для какого типа климата характерна представленная диаграмма?



- а) экваториального
- б) умеренно-континентального
- в) резко-континентального
- г) субтропического

12. Коэффициентом увлажнения называют соотношение

- а) годового количества осадков и среднегодовой температуры
- б) годового количества осадков и годовой величины испаряемости
- в) испаряемости и среднегодовой температуры
- г) испаряемости и суммарного речного стока

13. Выберите из списка реки, относящиеся к бассейну Индийского океана

- а) Лимпопо
- б) Амур
- в) Колорадо
- г) Брахмапутра

14. Какое из течений явилось причиной образования пустыни Атакамы?

- а) Гольфстрим
- б) Сомалийское
- в) Перуанское
- г) Канарское

15. Назовите глубочайшую впадину Индийского океана

- а) Андаманский желоб
- б) Яванский желоб
- в) Марианский желоб
- г) Желоб Тонга

16. Крупнейшим тектоническим озером России является озеро

- а) Байкал
- б) Ильмень
- в) Ладожское
- г) Курильское

17. Самым большим по площади островом Японского архипелага является остров

- а) Хоккайдо
- б) Кюрасао
- в) Хонсю
- г) Сахалин

18. Какая из перечисленных рек дважды пересекает самую длинную параллель планеты?

- а) Ориноко
- б) Нигер
- в) Убанги
- г) Конго

19. Для какой из перечисленных территорий России, расположенных в умеренном климатическом поясе, характерен муссонный климат?

- а) полуостров Камчатка
- б) Среднерусская возвышенность
- в) Забайкалье
- г) Западно-Сибирская низменность

20. Какой мыс не является крайней материковой точкой?

- а) м. Дежнева
- б) м. Рока
- в) м. Доброй Надежды
- г) м. Принца Уэльского

21. Какое водохранилище является крупнейшим по запасам воды в России?

- а) Цимлянское
- б) Красноярское
- в) Усть-Илимское
- г) Братское

22. В каком из субъектов Российской Федерации наблюдается максимальный естественный прирост населения?

- а) Республика Калмыкия
- б) Республика Хакасия
- в) Мурманская область
- г) Республика Тыва

23. Крупнейшим городом, стоящим на реке Обь, является город

- а) Новосибирск
- б) Омск
- в) Красноярск
- г) Тюмень

24. Крупнейшим железнодорожным узлом является город?

- а) Тында
- б) Бодайбо
- в) Якутск
- г) Нерюнгри

25. Какое море в древности называлось Варяжским?

- а) Черное
- б) Байкал
- в) Балтийское
- г) Каспийское

26. Мощным фактором деградации лесов с середины XX века стало

- а) загрязнение атмосферы промышленными выбросами
- б) строительство водохранилищ
- в) поступление радионуклеидов в почву
- г) исключение лесов из хозяйственной деятельности

27. Основа водных ресурсов России –

- а) ледники
- б) подземные воды
- в) болотные воды
- г) речной сток

28. Примером экологической катастрофы XX века, по причине чрезмерного забора пресной воды, является

- а) гибель Азовского моря
- б) осушение Васюганского болота
- в) понижение уровня Черного моря
- г) понижение уровня Карского моря

29. С наиболее развитым земледелием на территории России являются природные зоны

- а) тундра
- б) тайга
- в) степь
- г) лесостепь

30. Последствия уничтожения лесов на земном шаре

- а) повышение концентрации углерода в атмосфере
- б) изменение круговорота энергии и глобальных биогеохимических циклов
- в) превращение пустынных ландшафтов в продуктивные
- г) ослабление эрозии почв

Теоретический тур

Задание 8.1. По фрагменту карты определите географические объекты, обозначенные цифрами: 1, 2, 3 – моря; 4, 5 – полуострова и государства; 6, 7 – острова. Ответы запишите в таблицу 8.1.

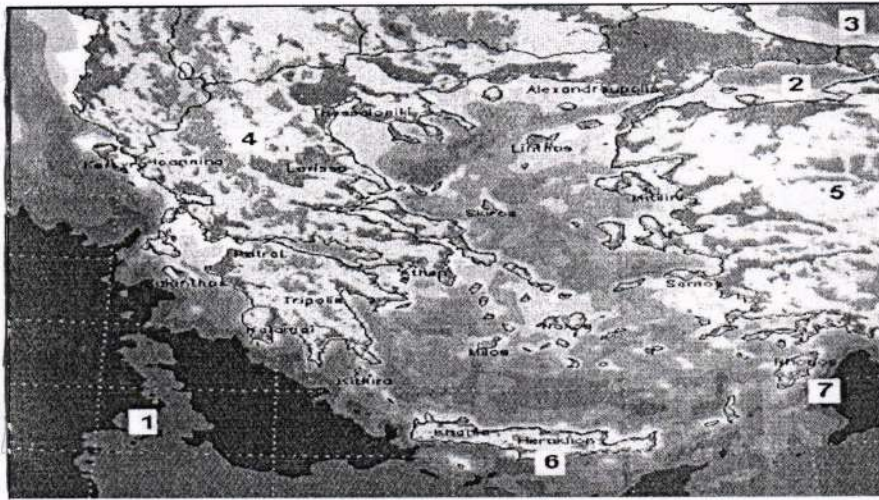


Таблица 8.1

Вопрос	Ответы
По фрагменту карты определите географические объекты, обозначенные цифрами: 1, 2, 3 – моря; 4, 5 – полуострова и государства; 6, 7 – острова.	Моря:
	1. –
	2. –
	3. –
	Полуострова и государства
	4. –
	5. –
Острова	
6. –	
7. –	

Задание 8.2. Установите соответствие между понятием и его определением. Ответы запишите в таблице 8.2.

Понятия	Определения
1. Польшдер 2. Дамба 3. Чараны 4. Пустоши	а) Линейно вытянутая положительная форма рельефа. Сооружается обычно вдоль берегов рек или водоемов для защиты от наводнений. б) Местное название сухих лугов на водораздельных плато или возвышенностях в Якутии. в) Неводеланные пространства, образовавшиеся преимущественно на месте лесов, главным образом, после вырубок или пожаров. г) Осушенная, возделанная и защищенная от затопления дамбой прибрежная болотистая низменность, лежащая ниже уровня моря.

Таблица 8.2

Вопрос	Ответы	
	Понятие	Определение (буквенное обозначение)
Установите соответствие между понятием и его определением.	1. Польшдер	г
	2. Дамба	а
	3. Чараны	б
	4. Пустоши	в

Задание 8.3. Прочтите фрагмент текста и дайте ответ на вопрос: почему наступают засухи в этих районах, влияние каких воздушных масс их вызывает? Назовите не менее двух причин, заполнив таблицу 8.3.


«На юго-востоке Восточно-Европейской равнины, а также к востоку в зауральских степях часто повторяются засушливые годы. Периодически разражается сильная засуха: дует опаляющий ветер, в воздухе повисает мгла, трава желтеет, листья свертываются».

Таблица 8.3

Вопрос	Ответы	
Прочтите фрагмент текста и дайте ответ на вопрос: почему наступают засухи в этих районах, влияние каких воздушных масс их вызывает? Назовите не менее двух причин.	Причина 1	
	Причина 2	

строительства такого жилища? 5. Почему в жилище тепло? 6. Какие жилища северных народов близки яранге?

Ответы запишите в таблицу 8.4.



615

Таблица 8.4






Вопрос	Ответ
Согласно рисунку, определите:	
1. Как называются изображенные жилища?	1. Как называются эти жилища - <i>яранга</i>
2. Кто строил такие жилища?	2. Кто строил такие жилища -
3. Из какого материала построены жилища?	3. Из какого материала построены жилища - <i>древесина, шерсть, кожа животных</i>
4. Какова технология строительства такого жилища?	4. Какова технология строительства -
5. Почему в жилище тепло?	5. Почему в жилище тепло - <i>тепло не выходит наружу из-за строения и материалов</i>
6. Какие жилища северных народов близки яранге?	6. Какие жилища северных народов близки яранге - <i>юрта</i>

4
0
1
0
D
1,5

Задание 8.5. Проанализируйте космический снимок городской территории Красноярского края и ее окрестностей, назовите город, выберите его герб и ответьте на вопросы, заполнив таблицу 8.5:

1. Как называется город и когда он был заложен?
2. Под каким номером представлен герб города?
3. Как называется река (1) протекающая в городе?
4. Каков тип климата на территории?
5. Какие ландшафты окружают город?



				
1	2	3	4	5

Уважаемый участник олимпиады! Вашему вниманию предлагаются задания тестового и теоретического туров, на выполнение которых отводится 135 минут (на тестовый тур – 45 минут и теоретический – 90 минут).

Тестовое задание включает 30 вопросов, каждый из которых содержит несколько элементов ответов и оценивается определенным количеством баллов (от 0,5 до 1,5 баллов). Общая оценка ответов на вопросы тестового тура представляет собой сумму баллов за отдельный вопрос и максимально составляет 30 баллов.

Теоретический тур включает задания различной степени сложности. Каждый элемент заданий оценивается определенным количеством баллов (от 1 до 3 баллов). Общее количество заданий составляет 5, максимальное количество баллов за правильные ответы – 70 баллов.

При ответах на вопросы тестового тура и заданий теоретического тура запрещается пользоваться географическими картами, атласами, словарями и справочными материалами.

Тестовый тур

1. Океания стала известна с XVI века, со времени плавания...
- а) Д. Кука
 - б) Ф. Дрейка
 - в) Ф. Магеллана
 - г) А. Тасмана
2. Средняя длина дуги одного градуса меридиана равна...
- а) 80 км
 - б) 111 км
 - в) 150 км
 - г) 250 км
3. В день летнего солнцестояния солнечные лучи падают перпендикулярно к земной поверхности только на широте ...
- а) северного полярного круга
 - б) экватора
 - в) южного полярного круга
 - г) южного тропика
4. Если численный масштаб карты составляет 1:30 000 000, то именованный масштаб – в 1 сантиметре...
- а) 3 километра
 - б) 30 километров
 - в) 300 километров
 - г) 300 метров

1 5. Химическое сырье, углеводороды, строительные материалы объединяются в ... ископаемые

- а) нерудные
- б) горючие
- в) гидротермальные
- г) рудные

0 6. Какая из перечисленных горных пород относится к группе осадочных пород органического происхождения?

- а) глина
- б) гранит
- в) мел
- г) базальт

1 7. Выберите правильный вариант внутреннего строения Земли

- а) земная кора, ядро, мантия
- б) ядро, мантия, земная кора
- в) мантия, земная кора, ядро
- г) ядро, земная кора, мантия

0 8. Горы полуострова Малая Азия образовались в области ... складчатости

- а) герцинской
- б) каледонской
- в) мезозойской
- г) кайнозойской

1 9. Как называется прибор, используемый для определения атмосферного давления?

- а) гигрометр
- б) барометр
- в) бусоль
- г) нивелир

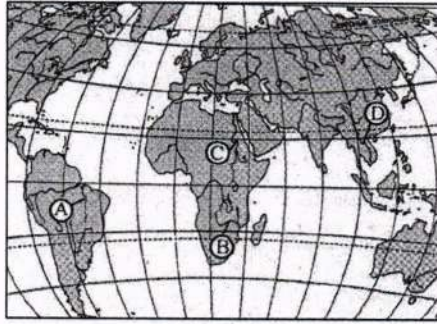
0 10. Наименьшим среднегодовым количеством осадков отличается

- а) Кавказ
- б) Прикаспийская низменность
- в) полуостров Камчатка
- г) Западно-Сибирская низменность

0 11. Какой из водопадов относится к объектам Всемирного наследия ЮНЕСКО?

- а) Ливингстона
- б) Ниагарский
- в) Игуасу
- г) Виктория

1 12. Как называется река, протекающая на Африканском материке, изображенная на карте между реками отмеченными буквами В и С и пересекающая экватор дважды?



- а) Конго
- б) Замбези
- в) Нигер
- г) Меконг

0 13. Какой вид атмосферных осадков является лишним в представленном ряду?

- а) дождь
- б) снег
- в) роса
- г) град

0 14. Что не относится к типам ледниковых явлений?

- а) шуга
- б) забереги
- в) сало
- г) межень

0 15. Атмосферные осадки в экваториальной Африке выпадают в основном

- а) летом
- б) зимой
- в) в течение всего года
- г) осенью

1 16. В результате деятельности временных водотоков образуются

- а) бараньи лбы
- б) барханы
- в) курчавые скалы
- г) овраги

1 17. Какой из материков омывается водами Индийского и Атлантического океанов?

- а) Австралия
- б) Южная Америка
- в) Северная Америка
- г) Африка

Укажите реку России, обладающую самым большим гидроэнергетическим потенциалом

- а) Волга
- б) Енисей
- в) Обь
- г) Абакан

19. Откуда берет начало река Ангара?

- а) оз. Байкал
- б) Охотско-Колымское нагорье
- в) хребет Черского
- г) Алданское нагорье

20. Самым глубоководным желобом на Земле является

- а) Филиппинский
- б) Марианский
- в) Чилийский
- г) Курило-Камчатский

21. Почву называют особым природным телом, так как

- а) ее основу составляют обломочные горные породы
- б) в ней живут различные животные
- в) в ней всегда находятся вода и воздух
- г) благодаря гумусу она обладает плодородием

22. В какой части света расположены самые высокие горы?

- а) Америка
- б) Европа
- в) Африка
- г) Азия

23. Какая из перечисленных характеристик соответствует природной зоне саванн?

- а) саванны встречаются только в Африке и Австралии
- б) типичными представителями растительности являются пальмы, гевея, лианы, бананы
- в) типичными представителями животного мира являются жираф, лев, слон, бегемот
- г) в течение всего года равномерно выпадает более 2000 мм осадков

24. Выберите верное соответствие «животное – материк, на котором оно обитает»?

- а) зебра – Африка
- б) коала – Южная Америка
- в) панда – Северная Америка
- г) белый медведь – Австралия

25. Из природных зон Земли наиболее низкая плотность населения свойственна

0,5

- а) арктическим пустыням
- б) тундре
- в) тайге
- г) лесостепи

1 26. Ведущая сельскохозяйственная культура Бразилии?

- а) citrusовые
- б) рис
- в) пшеницу
- г) кофе

0 27. Территория какого из перечисленных ниже государств не имеет выхода к Мировому океану?

- а) Аргентина
- б) Индия
- в) Боливия
- г) Перу

1 28. В каком из перечисленных государств самая высокая продолжительность жизни?

- а) Япония
- б) Польша
- в) Россия
- г) США

1 29. В каком из государств в половой ст

Теоретический тур

Задание 7.1. По фрагменту карты определите географические объекты, обозначенные цифрами:
 1 – страна, 2 – приток реки, 3 – равнина, 4 – река, 5 – город, 6 – низменность, 7 – море.
 Ответы запишите в таблице 7.1.

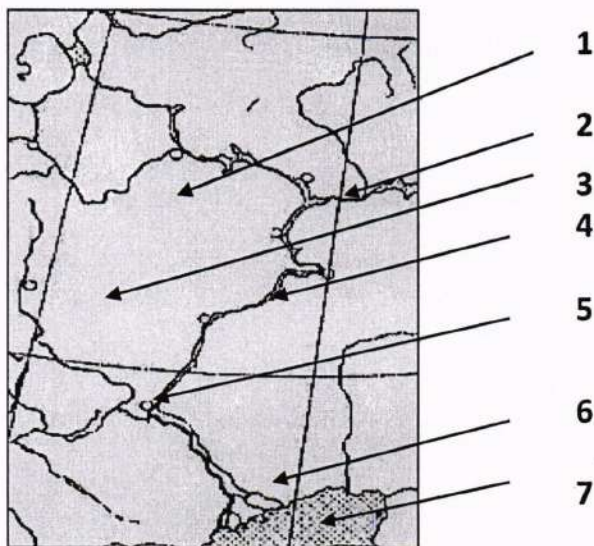


Таблица 7.1

Вопрос	Ответы
По фрагменту карты определите географические объекты, обозначенные цифрами: 1 – страна, 2 – приток реки, 3 – равнина, 4 – река, 5 – город, 6 – низменность, 7 – море.	1 – страна – <i>Беларусь Россия Украина</i>
	2 – приток реки – <i>Днепр</i>
	3 – равнина – <i>Белорусская</i>
	4 – река – <i>Дон</i>
	5 – город – <i>Минск</i>
	6 – низменность – <i>Донецкая</i>
	7 – море – <i>Чёрное море</i>

Задание 7.2. Географические объекты земной поверхности принято изображать картографически, т.е. в виде карты. Однако существуют и другие способы изображения земной поверхности. Расшифруйте предложенную схему, назовите зашифрованные объекты и ответьте на вопросы, заполнив таблицу 7.2.

1. Как называется материк 1?
2. Как называется материк 2?
3. Какой из материков больше по площади?
4. Как называется океан 1?
5. Как называется океан 2?
6. Как называется океан 3?
7. Какой океан глубже – 1 или 3?
8. Как называется пролив?
9. Какой картографический объект находится в пределах океана 2?

168



Таблица 7.2

Вопрос	Ответы
Географические объекты земной поверхности принято изображать картографически, т.е. в виде карты. Однако существуют и другие способы изображения земной поверхности. Расшифруйте предложенную схему, назовите зашифрованные объекты и ответьте на вопросы: 1. Как называется материк 1? 2. Как называется материк 2? 3. Какой из материков больше по площади? 4. Как называется океан 1? 5. Как называется океан 2? 6. Как называется океан 3? 7. Какой океан глубже – 1 или 3? 8. Как называется пролив? 9. Какой картографический объект находится в пределах океана 2?	1. Материк 1 – Северная Америка 2
	2. Материк 2 – Евразия 2
	3. По площади больше материк – 2 2
	4. Океан 1 – Атлантический 2
	5. Океан 2 – Северо-Ледовитый 2
	6. Океан 3 – Тихий 2
	7. Глубже океан – Тихий (3) 2
	8. Пролив – Берингов 0
	9. В пределах океана 2 находится – Северный полюс. 2

Задание 7.3. Ниже приведены интересные факты про материки нашей планеты. Назовите соответствующий материк для каждого факта. Ответы запишите в таблице 7.3.

1. Самый пустынный материк (без учета Антарктиды).
2. Материк с самым большим населением.
3. Самый низкий материк (с учетом средних и максимальных высот над уровнем моря).
4. Материк, не имеющий коренного населения.
5. Материк, который омывается всеми океанами.
6. Материк, который считают колыбелью человечества.
7. Материк, который открыли последним (и кто открыл его).
8. Материк, где расположен самый высокий водопад в мире (и как он называется).
9. Материк с самой полноводной рекой в мире (как она называется).
10. Материк, где расположен самый большой каньон в мире и как он называется).

Таблица 7.3

Вопрос	Ответы
<p>Ниже приведены интересные факты про материки нашей планеты. Назовите соответствующий материк для каждого факта.</p> <p>1. Самый пустынный материк (без учета Антарктиды).</p> <p>2. Материк с самым большим населением.</p> <p>3. Самый низкий материк (с учетом средних и максимальных высот над уровнем моря).</p> <p>4. Материк, не имеющий коренного населения.</p> <p>5. Материк, который омывается всеми океанами.</p> <p>6. Материк, который считают колыбелью человечества.</p> <p>7. Материк, который открыли последним (и кто открыл его).</p> <p>8. Материк, где расположен самый высокий водопад (и как он называется).</p> <p>9. Материк с самой полноводной рекой в мире (как она называется).</p> <p>10. Материк, где расположен самый большой каньон на Земле (и как он называется).</p>	<p>1. Самый пустынный материк (без учета Антарктиды) – <u>Африка</u>.</p>
	<p>2. Материк с самым большим населением – <u>Азия</u>.</p>
	<p>3. Самый низкий материк (с учетом средних и максимальных высот над уровнем моря) – <u>Австралия</u>.</p>
	<p>4. Материк, не имеющий коренного населения – <u>Северная Америка</u>.</p>
	<p>5. Материк, который омывается всеми океанами – <u>Евразия</u>.</p>
	<p>6. Материк, который считают колыбелью человечества – <u>Евразия</u>.</p>
	<p>7. Материк, который открыли последним (и кто открыл его) – <u>Антарктида</u>.</p>
	<p>8. Материк, где расположен самый высокий водопад (и как он называется) – <u>Южная Америка</u>.</p>
	<p>9. Материк с самой полноводной рекой (как она называется) – <u>Южная Америка</u>.</p>
	<p>10. Материк, где расположен самый большой каньон на Земле (и как он называется) – <u>Северная Америка</u>.</p>

Задание 7.4. По рисунку определите название жилищ и ответьте на вопросы: кто строил такие жилища, из чего они построены и почему использовался этот строительный материал, как определялось качество строительного материала? Ответы запишите в таблице 7.4.



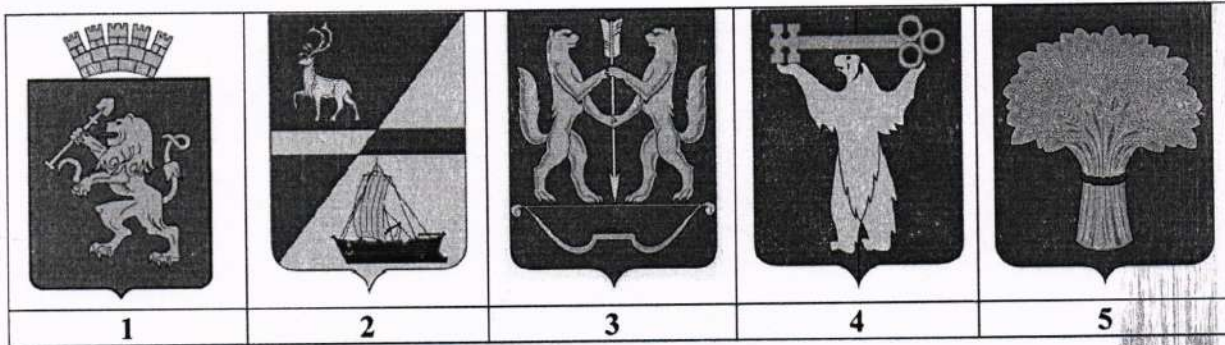

70

Таблица 7.4

Вопрос	Ответ
По рисунку жилищ определите:	
1. Как называются эти жилища?	1. Как называются эти жилища- <i>Чумы.</i> 2
2. Кто строил такие жилища?	2. Кто строил такие жилища- <i>Северные оленеводы.</i> 0
3. Из какого материала построены жилища?	3. Из какого материала построены жилища- <i>Из шерсти оленя (эскимоса)</i> 2
4. Какова технология строительства такого жилища?	4. Какова технология строительства такого жилища- <i>Складывание кубов на друг друга.</i> 3
5. Почему используется этот строительный материал?	5. Почему используется этот строительный материал- <i>Потому что на севере самое жесткое материал.</i> 0
6. Как определялось качество материала?	6. Как определялось качество материала- <i>Он не рвется от ветра.</i> 0

Задание 7.5. Проанализируйте космический снимок городской территории Красноярского края и её окрестностей, назовите город и выберите соответствующий ему герб. Ответьте на следующие вопросы, заполнив таблицу 7.5.

1. Как называется город и когда он был образован?
2. Под каким номером представлен герб города?
3. Как называется река (1) протекающая через территорию города?
4. Как называется остров, обозначенный цифрой (2)?
5. Как называется мост (4), соединяющий берега реки?
6. Как называется остров, обозначенный цифрой (3)?



65

Таблица 7.5

Вопрос	Ответы
Проанализируйте космический снимок городской территории Красноярского края и ее окрестностей, назовите город, выберите его герб и ответьте вопросы: 1. Как называется город и когда он был образован? 2. Под каким номером представлен герб города? 3. Как называется река (1) протекающая через территорию города? 4. Как называется остров, обозначенный цифрой (2)? 5. Как называется мост (4), соединяющий берега реки? 6. Как называется остров, обозначенный цифрой (3)?	1. Как называется город и когда он был образован – <i>Красноярск</i> .
	2. Под каким номером представлен герб города – <i>1</i>
	3. Как называется река (1) протекающая через территорию города – <i>Синий</i> .
	4. Как называется остров, обозначенный цифрой (2) – <i>Остров развлечений</i> .
	5. Как называется мост (4), соединяющий берега реки – <i>Мостыосеужский</i> .
	6. Как называется остров, обозначенный цифрой (3) – <i>Итатинский</i> .

2
2
1
0
0
1

75

Золотый медальник

Олимпиада школьников по географии
Задания школьного этапа для 7 класса
в 2023/2024 учебном году

17,5 + 34 = 51,58

Уважаемый участник олимпиады! Вашему вниманию предлагаются задания тестового и теоретического туров, на выполнение которых отводится 135 минут (на тестовый тур – 45 минут и теоретический – 90 минут).

Тестовое задание включает 30 вопросов, каждый из которых содержит несколько элементов ответов и оценивается определенным количеством баллов (от 0,5 до 1,5 баллов). Общая оценка ответов на вопросы тестового тура представляет собой сумму баллов за отдельный вопрос и максимально составляет 30 баллов.

Теоретический тур включает задания различной степени сложности. Каждый элемент заданий оценивается определенным количеством баллов (от 1 до 3 баллов). Общее количество заданий составляет 5, максимальное количество баллов за правильные ответы – 70 баллов.

При ответах на вопросы тестового тура и заданий теоретического тура запрещается пользоваться географическими картами, атласами, словарями и справочными материалами.

Тестовый тур

1. Океания стала известна с XVI века, со времени плавания...

- а) Д. Кука
- б) Ф. Дрейка
- в) Ф. Магеллана
- г) А. Тасмана

2. Средняя длина дуги одного градуса меридиана равна...

- а) 80 км
- б) 111 км
- в) 150 км
- г) 250 км

3. В день летнего солнцестояния солнечные лучи падают перпендикулярно к земной поверхности только на широте ...

- а) северного полярного круга
- б) экватора
- в) южного полярного круга
- г) южного тропика

4. Если численный масштаб карты составляет 1:30 000 000, то именованный масштаб – в 1 сантиметре...

- а) 3 километра
- б) 30 километров
- в) 300 километров
- г) 300 метров

5. Химическое сырье, углеводороды, строительные материалы объединяются в ... ископаемые

- 1
- а) нерудные
 - б) горючие
 - в) гидротермальные
 - г) рудные

6. Какая из перечисленных горных пород относится к группе осадочных пород органического происхождения?

- а) глина
- б) гранит
- в) мел
- г) базальт

7. Выберите правильный вариант внутреннего строения Земли

- а) земная кора, ядро, мантия
- б) ядро, мантия, земная кора
- в) мантия, земная кора, ядро
- г) ядро, земная кора, мантия

8. Горы полуострова Малая Азия образовались в области ... складчатости

- а) герцинской
- б) каледонской
- в) мезозойской
- г) кайнозойской

9. Как называется прибор, используемый для определения атмосферного давления?

- а) гигрометр
- б) барометр
- в) бусоль
- г) нивелир

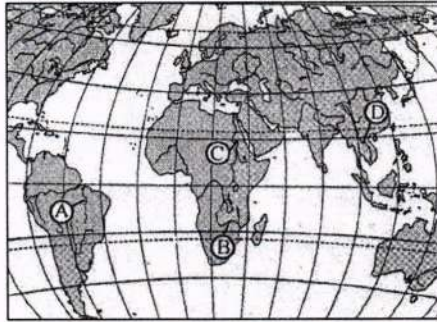
10. Наименьшим среднегодовым количеством осадков отличается

- а) Кавказ
- б) Прикаспийская низменность
- в) полуостров Камчатка
- г) Западно-Сибирская низменность

11. Какой из водопадов относится к объектам Всемирного наследия ЮНЕСКО?

- а) Ливингстона
- б) Ниагарский
- в) Игуасу
- г) Виктория

12. Как называется река, протекающая на Африканском материке, изображенная на карте между реками отмеченными буквами В и С и пересекающая экватор дважды?



- а) Конго
- б) Замбези
- в) Нигер
- г) Меконг

13. Какой вид атмосферных осадков является лишним в представленном ряду?

- а) дождь
- б) снег
- в) роса
- г) град

14. Что не относится к типам ледниковых явлений?

- а) шуга
- б) забереги
- в) сало
- г) межень

15. Атмосферные осадки в экваториальной Африке выпадают в основном

- а) летом
- б) зимой
- в) в течение всего года
- г) осенью

16. В результате деятельности временных водотоков образуются

- а) бараньи лбы
- б) барханы
- в) курчавые скалы
- г) овраги

17. Какой из материков омывается водами Индийского и Атлантического океанов?

- а) Австралия
- б) Южная Америка
- в) Северная Америка
- г) Африка

18. Отметьте реку России, обладающую самым большим гидроэнергетическим потенциалом

- а) Волга
- б) Енисей
- в) Обь
- г) Абакан

19. Откуда берет начало река Ангара?

- а) оз. Байкал
- б) Охотско-Колымское нагорье
- в) хребет Черского
- г) Алданское нагорье

20. Самым глубоководным желобом на Земле является

- а) Филиппинский
- б) Марианский
- в) Чилийский
- г) Курило-Камчатский

21. Почву называют особым природным телом, так как

- а) ее основу составляют обломочные горные породы
- б) в ней живут различные животные
- в) в ней всегда находятся вода и воздух
- г) благодаря гумусу она обладает плодородием

22. В какой части света расположены самые высокие горы?

- а) Америка
- б) Европа
- в) Африка
- г) Азия

23. Какая из перечисленных характеристик соответствует природной зоне саванн?

- а) саванны встречаются только в Африке и Австралии
- б) типичными представителями растительности являются пальмы, гевея, лианы, бананы
- в) типичными представителями животного мира являются жираф, лев, слон, бегемот
- г) в течение всего года равномерно выпадает более 2000 мм осадков

24. Выберите верное соответствие «животное – материк, на котором оно обитает»?

- а) зебра – Африка
- б) коала – Южная Америка
- в) панда – Северная Америка
- г) белый медведь – Австралия

25. Из природных зон Земли наиболее низкая плотность населения свойственна

- 0,5
- а) арктическим пустыням
 - б) тундре
 - в) тайге
 - г) лесостепи

1 26. Ведущая сельскохозяйственная культура Бразилии?

- а) цитрусовые
- б) рис
- в) пшеницу
- г) кофе

0 27. Территория какого из перечисленных ниже государств не имеет выхода к Мировому океану?

- а) Аргентина
- б) Индия
- в) Боливия
- г) Перу

1 28. В каком из перечисленных государств самая высокая продолжительность жизни?

- а) Япония
- б) Польша
- в) Россия
- г) США

0 29. В каком из государств в половой структуре преобладает мужское население?

- а) Катар
- б) Россия
- в) Португалия
- г) Венгрия

0 30. Выберите две страны, которые являются наиболее урбанизированными

- а) Кувейт
- б) Алжир
- в) Нигерия
- г) Бельгия

Теоретический тур

Задание 7.1. По фрагменту карты определите географические объекты, обозначенные цифрами:
 1 – страна, 2 – приток реки, 3 – равнина, 4 – река, 5 – город, 6 – низменность, 7 – море.
 Ответы запишите в таблице 7.1.

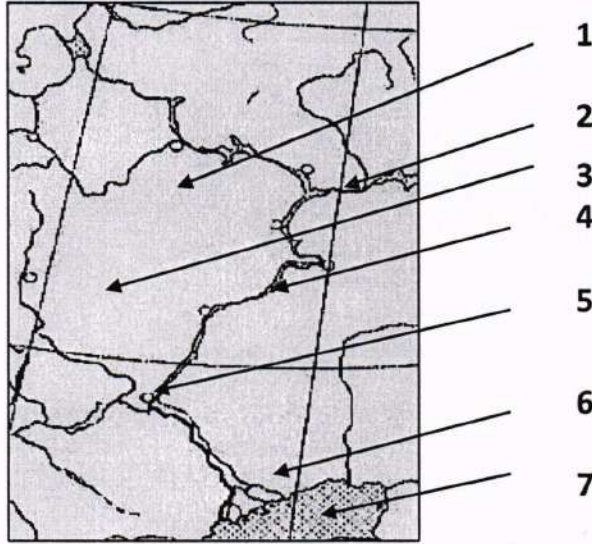


Таблица 7.1

Вопрос	Ответы
По фрагменту карты определите географические объекты, обозначенные цифрами: 1 – страна, 2 – приток реки, 3 – равнина, 4 – река, 5 – город, 6 – низменность, 7 – море.	1 – страна – Беларусь
	2 – приток реки –
	3 – равнина – Белорусская
	4 – река – Дон
	5 – город – Минск
	6 – низменность – Полесская
	7 – море – Черное море

Задание 7.2. Географические объекты земной поверхности принято изображать картографически, т.е. в виде карты. Однако существуют и другие способы изображения земной поверхности. Расшифруйте предложенную схему, назовите зашифрованные объекты и ответьте на вопросы, заполнив таблицу 7.2.

1. Как называется материк 1?
2. Как называется материк 2?
3. Какой из материков больше по площади?
4. Как называется океан 1?
5. Как называется океан 2?
6. Как называется океан 3?
7. Какой океан глубже – 1 или 3?
8. Как называется пролив?
9. Какой картографический объект находится в пределах океана 2?

180



Таблица 7.2

Вопрос	Ответы
Географические объекты земной поверхности принято изображать картографически, т.е. в виде карты. Однако существуют и другие способы изображения земной поверхности. Расшифруйте предложенную схему, назовите зашифрованные объекты и ответьте на вопросы: 1. Как называется материк 1? 2. Как называется материк 2? 3. Какой из материков больше по площади? 4. Как называется океан 1? 5. Как называется океан 2? 6. Как называется океан 3? 7. Какой океан глубже – 1 или 3? 8. Как называется пролив? 9. Какой картографический объект находится в пределах океана 2?	1. Материк 1 – <i>Северная Америка</i>
	2. Материк 2 – <i>Европа</i>
	3. По площади больше материк – <i>2</i>
	4. Океан 1 – <i>Атлантический</i>
	5. Океан 2 – <i>Северный ледовитый</i>
	6. Океан 3 – <i>Тихий</i>
	7. Глубже океан – <i>Тихий</i>
	8. Пролив – <i>Дрейк</i>
	9. В пределах океана 2 находится – <i>Северный полюс</i>

2
2
2
2
2
2
2
2
2

Задание 7.3. Ниже приведены интересные факты про материки нашей планеты. Назовите соответствующий материк для каждого факта. Ответы запишите в таблице 7.3.


1. Самый пустынный материк (без учета Антарктиды).
2. Материк с самым большим населением.
3. Самый низкий материк (с учетом средних и максимальных высот над уровнем моря).
4. Материк, не имеющий коренного населения.
5. Материк, который омывается всеми океанами.
6. Материк, который считают колыбелью человечества.
7. Материк, который открыли последним (и кто открыл его).
8. Материк, где расположен самый высокий водопад в мире (и как он называется).
9. Материк с самой полноводной рекой в мире (как она называется).
10. Материк, где расположен самый большой каньон в мире и как он называется).

Таблица 7.3

Вопрос	Ответы
<p>Ниже приведены интересные факты про материки нашей планеты. Назовите соответствующий материк для каждого факта.</p> <p>1. Самый пустынный материк (без учета Антарктиды).</p> <p>2. Материк с самым большим населением.</p> <p>3. Самый низкий материк (с учетом средних и максимальных высот над уровнем моря).</p> <p>4. Материк, не имеющий коренного населения.</p> <p>5. Материк, который омывается всеми океанами.</p> <p>6. Материк, который считают колыбелью человечества.</p> <p>7. Материк, который открыли последним (и кто открыл его).</p> <p>8. Материк, где расположен самый высокий водопад (и как он называется).</p> <p>9. Материк с самой полноводной рекой в мире (как она называется).</p> <p>10. Материк, где расположен самый большой каньон на Земле (и как он называется).</p>	<p>1. Самый пустынный материк (без учета Антарктиды) – <i>Африка</i></p>
	<p>2. Материк с самым большим населением – <i>Евразия</i></p>
	<p>3. Самый низкий материк (с учетом средних и максимальных высот над уровнем моря) – <i>Северная Америка</i></p>
	<p>4. Материк, не имеющий коренного населения –</p>
	<p>5. Материк, который омывается всеми океанами – <i>Евразия</i></p>
	<p>6. Материк, который считают колыбелью человечества – <i>Евразия</i></p>
	<p>7. Материк, который открыли последним (и кто открыл его) – <i>Антарктида</i></p>
	<p>8. Материк, где расположен самый высокий водопад (и как он называется) – <i>Южная Америка</i></p>
	<p>9. Материк с самой полноводной рекой (как она называется) – <i>Азия</i></p>
	<p>10. Материк, где расположен самый большой каньон на Земле – <i>Северная Америка</i></p>

0
1
0
0
1
0
1
1
1
0

Задание 7.4. По рисунку определите название жилищ и ответьте на вопросы: кто строил такие жилища, из чего они построены и почему использовался этот строительный материал, как определялось качество строительного материала? Ответы запишите в таблице 7.4.



58

Таблица 7.4

Вопрос	Ответ
По рисунку жилищ определите:	
1. Как называются эти жилища?	1. Как называются эти жилища - <i>арды</i> 2
2. Кто строил такие жилища?	2. Кто строил такие жилища - <i>жители</i> 2
3. Из какого материала построены жилища?	3. Из какого материала построены жилища - <i>шкура</i> 1
4. Какова технология строительства такого жилища?	4. Какова технология строительства такого жилища - <i>для этого заготавливают шкуру животных и получают из неё материал как войлок</i> 0
5. Почему используется этот строительный материал?	5. Почему используется этот строительный материал - <i>это было в условиях степей и жары, и он не так подвержен гниению</i> 0
6. Как определялось качество материала?	6. Как определялось качество материала - <i>толщина прочностью</i> 0

Задание 7.5. Проанализируйте космический снимок городской территории Красноярского края и её окрестностей, назовите город и выберите соответствующий ему герб. Ответьте на следующие вопросы, заполнив таблицу 7.5.

1. Как называется город и когда он был образован?
2. Под каким номером представлен герб города?
3. Как называется река (1) протекающая через территорию города?
4. Как называется остров, обозначенный цифрой (2)?
5. Как называется мост (4), соединяющий берега реки?
6. Как называется остров, обозначенный цифрой (3)?

Александрова Мария

Олимпиада школьников по географии
Задания школьного этапа для 7 класса
в 2023/2024 учебном году

23,5 + 27 = 50,5

Уважаемый участник олимпиады! Вашему вниманию предлагаются задания тестового и теоретического туров, на выполнение которых отводится 135 минут (на тестовый тур – 45 минут и теоретический – 90 минут).

Тестовое задание включает 30 вопросов, каждый из которых содержит несколько элементов ответов и оценивается определенным количеством баллов (от 0,5 до 1,5 баллов). Общая оценка ответов на вопросы тестового тура представляет собой сумму баллов за отдельный вопрос и максимально составляет 30 баллов.

Теоретический тур включает задания различной степени сложности. Каждый элемент заданий оценивается определенным количеством баллов (от 1 до 3 баллов). Общее количество заданий составляет 5, максимальное количество баллов за правильные ответы – 70 баллов.

При ответах на вопросы тестового тура и заданий теоретического тура запрещается пользоваться географическими картами, атласами, словарями и справочными материалами.

Тестовый тур

- 0 1. Океания стала известна с XVI века, со времени плавания...
- а) Д. Кука
 - б) Ф. Дрейка
 - в) Ф. Магеллана
 - г) А. Тасмана
- 1 2. Средняя длина дуги одного градуса меридиана равна...
- а) 80 км
 - б) 111 км
 - в) 150 км
 - г) 250 км
- 1 3. В день летнего солнцестояния солнечные лучи падают перпендикулярно к земной поверхности только на широте ...
- а) северного полярного круга
 - б) экватора
 - в) южного полярного круга
 - г) южного тропика
- 0 4. Если численный масштаб карты составляет 1:30 000 000, то именованный масштаб – в 1 сантиметре...
- а) 3 километра
 - б) 30 километров
 - в) 300 километров
 - г) 300 метров

5. Химическое сырье, углеводороды, строительные материалы объединяются в ... ископаемые

1

- а) нерудные
- б) горючие
- в) гидротермальные
- г) рудные

6. Какая из перечисленных горных пород относится к группе осадочных пород органогенного происхождения?

1

- а) глина
- б) гранит
- в) мел
- г) базальт

7. Выберите правильный вариант внутреннего строения Земли

1

- а) земная кора, ядро, мантия
- б) ядро, мантия, земная кора
- в) мантия, земная кора, ядро
- г) ядро, земная кора, мантия

8. Горы полуострова Малая Азия образовались в области ... складчатости

1

- а) герцинской
- б) каледонской
- в) мезозойской
- г) кайнозойской

9. Как называется прибор, используемый для определения атмосферного давления?

1

- а) гигрометр
- б) барометр
- в) бусоль
- г) нивелир

10. Наименьшим среднегодовым количеством осадков отличается

0

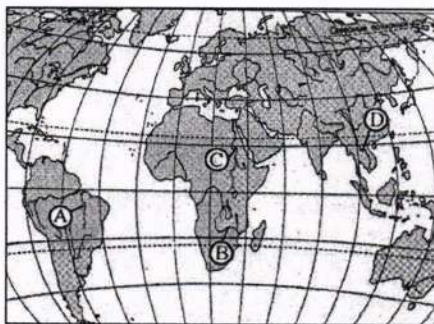
- а) Кавказ
- б) Прикаспийская низменность
- в) полуостров Камчатка
- г) Западно-Сибирская низменность

11. Какой из водопадов относится к объектам Всемирного наследия ЮНЕСКО?

1

- а) Ливингстона
- б) Ниагарский
- в) Игуасу
- г) Виктория

12. Как называется река, протекающая на Африканском материке, изображенная на карте между реками отмеченными буквами В и С и пересекающая экватор дважды?



- а) Конго
б) Замбези
в) Нигер -
г) Меконг

13. Какой вид атмосферных осадков является лишним в представленном ряду?

- а) дождь
б) снег
в) роса
г) град

14. Что не относится к типам ледниковых явлений?

- а) шуга
б) забереги
в) сало
г) межень

15. Атмосферные осадки в экваториальной Африке выпадают в основном

- а) летом
б) зимой
в) в течение всего года
г) осенью

16. В результате деятельности временных водотоков образуются

- а) бараньи лбы
б) барханы
в) курчавые скалы
г) овраги

17. Какой из материков омывается водами Индийского и Атлантического океанов?

- а) Австралия
б) Южная Америка
в) Северная Америка
г) Африка

18. Отметьте реку России, обладающую самым большим гидроэнергетическим потенциалом

- 1
- а) Волга
 - б) Енисей
 - в) Обь
 - г) Абакан

19. Откуда берет начало река Ангара?

- 1
- а) оз. Байкал
 - б) Охотско-Колымское нагорье
 - в) хребет Черского
 - г) Алданское нагорье

20. Самым глубоководным желобом на Земле является

- 1
- а) Филиппинский
 - б) Марианский
 - в) Чилийский
 - г) Курило-Камчатский

21. Почву называют особым природным телом, так как

- 1
- а) ее основу составляют обломочные горные породы
 - б) в ней живут различные животные
 - в) в ней всегда находятся вода и воздух
 - г) благодаря гумусу она обладает плодородием

22. В какой части света расположены самые высокие горы?

- 1
- а) Америка
 - б) Европа
 - в) Африка
 - г) Азия

23. Какая из перечисленных характеристик соответствует природной зоне саванн?

- 1
- а) саванны встречаются только в Африке и Австралии
 - б) типичными представителями растительности являются пальмы, гевея, лианы, бананы
 - в) типичными представителями животного мира являются жираф, лев, слон, бегемот
 - г) в течение всего года равномерно выпадает более 2000 мм осадков

24. Выберите верное соответствие «животное – материк, на котором оно обитает»?

- 0
- а) зебра – Африка
 - б) коала – Южная Америка
 - в) панда – Северная Америка
 - г) белый медведь – Австралия

25. Из природных зон Земли наиболее низкая плотность населения свойственна

- 0,5
- а) арктическим пустыням
 - б) тундре
 - в) тайге
 - г) лесостепи

26. Ведущая сельскохозяйственная культура Бразилии?

- 1
- а) citrusовые
 - б) рис
 - в) пшеницу
 - г) кофе

27. Территория какого из перечисленных ниже государств не имеет выхода к Мировому океану?

- 1
- а) Аргентина
 - б) Индия
 - в) Боливия
 - г) Перу

28. В каком из перечисленных государств самая высокая продолжительность жизни?

- 1
- а) Япония
 - б) Польша
 - в) Россия
 - г) США

29. В каком их государств в половой структуре преобладает мужское население?

- 1
- а) Катар
 - б) Россия
 - в) Португалия
 - г) Венгрия

30. Выберите две страны, которые являются наиболее урбанизированными

- 1
- а) Кувейт
 - б) Алжир
 - в) Нигерия
 - г) Бельгия

Теоретический тур

Задание 7.1. По фрагменту карты определите географические объекты, обозначенные цифрами:
1 – страна, 2 – приток реки, 3 – равнина, 4 – река, 5 – город, 6 – низменность, 7 – море.
Ответы запишите в таблице 7.1.

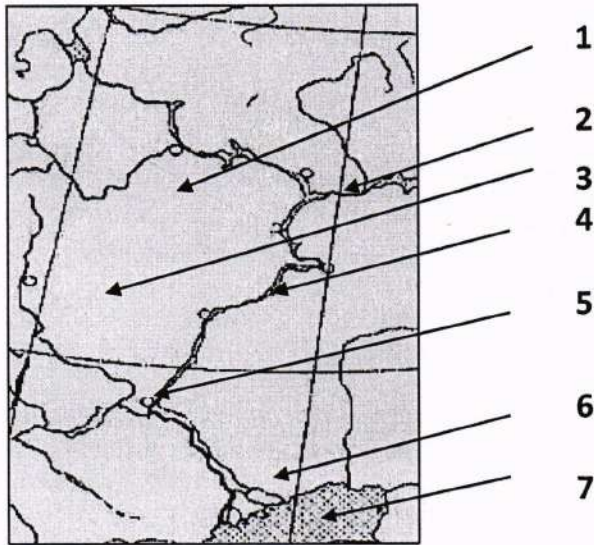


Таблица 7.1

Вопрос	Ответы
По фрагменту карты определите географические объекты, обозначенные цифрами: 1 – страна, 2 – приток реки, 3 – равнина, 4 – река, 5 – город, 6 – низменность, 7 – море.	1 – страна – <i>Франция</i>
	2 – приток реки –
	3 – равнина –
	4 – река –
	5 – город – <i>Париж</i>
	6 – низменность –
	7 – море – <i>Средиземное</i>

Задание 7.2. Географические объекты земной поверхности принято изображать картографически, т.е. в виде карты. Однако существуют и другие способы изображения земной поверхности. Расшифруйте предложенную схему, назовите зашифрованные объекты и ответьте на вопросы, заполнив таблицу 7.2.

1. Как называется материк 1?
2. Как называется материк 2?
3. Какой из материков больше по площади?
4. Как называется океан 1?
5. Как называется океан 2?
6. Как называется океан 3?
7. Какой океан глубже – 1 или 3?
8. Как называется пролив?
9. Какой картографический объект находится в пределах океана 2?

40



Таблица 7.2

Вопрос	Ответы
<p>Географические объекты земной поверхности принято изображать картографически, т.е. в виде карты. Однако существуют и другие способы изображения земной поверхности. Расшифруйте предложенную схему, назовите зашифрованные объекты и ответьте на вопросы:</p> <ol style="list-style-type: none"> 1. Как называется материк 1? 2. Как называется материк 2? 3. Какой из материков больше по площади? 4. Как называется океан 1? 5. Как называется океан 2? 6. Как называется океан 3? 7. Какой океан глубже – 1 или 3? 8. Как называется пролив? 9. Какой картографический объект находится в пределах океана 2? 	1. Материк 1 – <i>Евразия</i>
	2. Материк 2 – <i>Северная Америка</i>
	3. По площади больше материк – <i>Евразия</i>
	4. Океан 1 – <i>Атлантический</i>
	5. Океан 2 – <i>Тихоокеанский</i>
	6. Океан 3 – <i>Северно-Ледовитый</i>
	7. Глубже океан – <i>Тихий</i>
	8. Пролив – <i>Берингов</i>
	9. В пределах океана 2 находится – <i>морь</i>

Задание 7.3. Ниже приведены интересные факты про материки нашей планеты. Назовите соответствующий материк для каждого факта. Ответы запишите в таблице 7.3.


1. Самый пустынный материк (без учета Антарктиды).
2. Материк с самым большим населением.
3. Самый низкий материк (с учетом средних и максимальных высот над уровнем моря).
4. Материк, не имеющий коренного населения.
5. Материк, который омывается всеми океанами.
6. Материк, который считают колыбелью человечества.
7. Материк, который открыли последним (и кто открыл его).
8. Материк, где расположен самый высокий водопад в мире (и как он называется).
9. Материк с самой полноводной рекой в мире (как она называется).
10. Материк, где расположен самый большой каньон в мире и как он называется).

15

Таблица 7.3

Вопрос	Ответы
<p>Ниже приведены интересные факты про материки нашей планеты. Назовите соответствующий материк для каждого факта.</p> <p>1. Самый пустынный материк (без учета Антарктиды).</p> <p>2. Материк с самым большим населением.</p> <p>3. Самый низкий материк (с учетом средних и максимальных высот над уровнем моря).</p> <p>4. Материк, не имеющий коренного населения.</p> <p>5. Материк, который омывается всеми океанами.</p> <p>6. Материк, который считают колыбелью человечества.</p> <p>7. Материк, который открыли последним (и кто открыл его).</p> <p>8. Материк, где расположен самый высокий водопад (и как он называется).</p> <p>9. Материк с самой полноводной рекой в мире (как она называется).</p> <p>10. Материк, где расположен самый большой каньон на Земле (и как он называется).</p>	<p>1. Самый пустынный материк (без учета Антарктиды) – <i>Африка</i></p>
	<p>2. Материк с самым большим населением – <i>Евразия</i></p>
	<p>3. Самый низкий материк (с учетом средних и максимальных высот над уровнем моря) – <i>0</i></p>
	<p>4. Материк, не имеющий коренного населения – <i>Антарктида</i></p>
	<p>5. Материк, который омывается всеми океанами – <i>Евразия</i></p>
	<p>6. Материк, который считают колыбелью человечества – <i>Африка</i></p>
	<p>7. Материк, который открыли последним (и кто открыл его) – <i>Антарктида</i></p>
	<p>8. Материк, где расположен самый высокий водопад (и как он называется) – <i>Евразия</i> <i>Виктория</i></p>
	<p>9. Материк с самой полноводной рекой (как она называется) – <i>Южная Америка</i></p>
	<p>10. Материк, где расположен самый большой каньон на Земле (и как он называется) – <i>Северная Америка</i></p>

Задание 7.4. По рисунку определите название жилищ и ответьте на вопросы: кто строил такие жилища, из чего они построены и почему использовался этот строительный материал, как определялось качество строительного материала? Ответы запишите в таблице 7.4.



6

Таблица 7.4

Вопрос	Ответ	
По рисунку жилищ определите:		
1. Как называются эти жилища?	1. Как называются эти жилища- шатры	2
2. Кто строил такие жилища?	2. Кто строил такие жилища- кочевники Кавказа	2
3. Из какого материала построены жилища?	3. Из какого материала построены жилища- шкура	1
4. Какова технология строительства такого жилища?	4. Какова технология строительства такого жилища- кочевники шкура кочевники шкура	1
5. Почему используется этот строительный материал?	5. Почему используется этот строительный материал- потому что его много везде	0
6. Как определялось качество материала?	6. Как определялось качество материала- больше ничего нет	0

Задание 7.5. Проанализируйте космический снимок городской территории Красноярского края и её окрестностей, назовите город и выберите соответствующий ему герб. Ответьте на следующие вопросы, заполнив таблицу 7.5.

1. Как называется город и когда он был образован?
2. Под каким номером представлен герб города?
3. Как называется река (1) протекающая через территорию города?
4. Как называется остров, обозначенный цифрой (2)?
5. Как называется мост (4), соединяющий берега реки?
6. Как называется остров, обозначенный цифрой (3)?

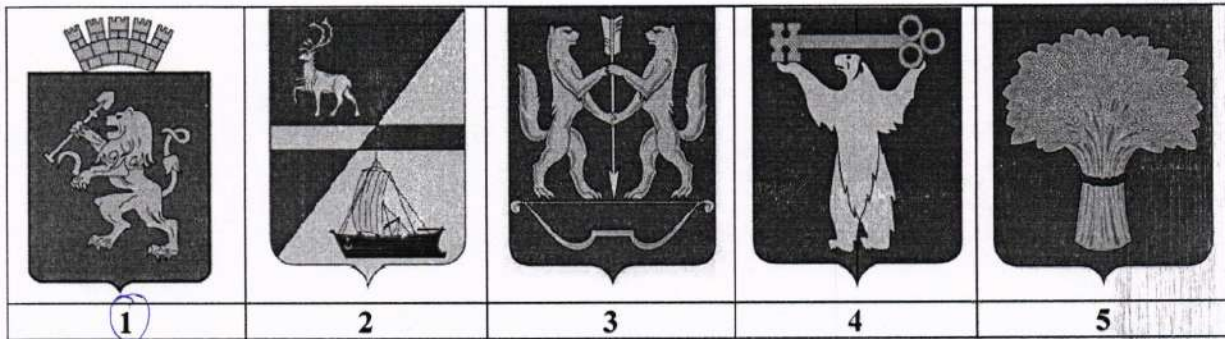



Таблица 7.5

Вопрос	Ответы
Проанализируйте космический снимок городской территории Красноярского края и ее окрестностей, назовите город, выберите его герб и ответьте вопросы:	1. Как называется город и когда он был образован - <i>Красноярск, 1628</i>
1. Как называется город и когда он был образован?	2. Под каким номером представлен герб города - <i>1</i>
2. Под каким номером представлен герб города?	3. Как называется река (1) протекающая через территорию города - <i>Енисей</i>
3. Как называется река (1) протекающая через территорию города?	4. Как называется остров, обозначенный цифрой (2) - <i>остров Татышев отдырка</i>
4. Как называется остров, обозначенный цифрой (2)?	5. Как называется мост (4), соединяющий берега реки - <i>Каменный мост</i>
5. Как называется мост (4), соединяющий берега реки?	6. Как называется остров, обозначенный цифрой (3) - <i>остров Татышев</i>
6. Как называется остров, обозначенный цифрой (3)?	

3
2
1
0
1
1

80